

**BACCALAUREAT TECHNOLOGIQUE**

**SCIENCES ET TECHNOLOGIES  
DE LA SANTE ET DU SOCIAL**

**BIOLOGIE ET PHYSIOPATHOLOGIE HUMAINES**

**SESSION 2012**

Durée : 3 h 30

Coefficient : 7

Avant de composer, le candidat s'assurera que le sujet comporte bien  
10 pages numérotées de 1/10 à 10/10.

L'usage de la calculatrice n'est pas autorisé.

## Aide à la procréation, suivi gestationnel et dépistage néonatal

### 1- Hypofertilité et aide à la procréation (9 points)

Après environ deux ans d'arrêt de la pilule contraceptive et malgré des rapports sexuels réguliers, Mme S., 35 ans, ne parvient toujours pas à être enceinte. Son gynécologue demande un dosage sanguin quotidien de LH et FSH pendant un mois (**document 1a**). Devant les résultats du dosage, le gynécologue décide de lui prescrire un traitement au clomiphène. Les mêmes hormones sont alors dosées le mois suivant le traitement (**document 1b**).

1-1. Citer trois causes possibles de stérilité féminine et/ou masculine.

1-2. La FSH et la LH sont deux hormones qui interviennent dans le cycle chez la femme.

- Définir le terme hormone.
- Préciser le lieu de sécrétion de ces deux hormones.
- Décrire succinctement le rôle de ces deux hormones.

1-3. Nommer et situer dans le temps les deux phases du cycle menstruel à l'aide du **document 1**.

1-4. Comparer les documents 1a et 1b et à l'aide des connaissances, en déduire une cause possible de la stérilité de Mme S. ainsi que l'effet du traitement.

1-5. Le **document 2** présente un schéma des organes de la cavité pelvienne. Préciser le plan de coupe et reporter sur la copie les légendes correspondant aux numéros 1 à 9.

1-6. Théoriquement, aux environs du 14<sup>ème</sup> jour du cycle, il y a expulsion du gamète : l'ovocyte. Le **document 3** représente les différentes étapes de la méiose : phase importante de la gamétogénèse (par simplification, l'évolution d'une cellule diploïde à 12 chromosomes a été photographiée).

1-6.1. Nommer chaque étape et classer les différentes photographies du **document 3** dans l'ordre chronologique en justifiant la réponse.

1-6.2. Nommer et décrire les deux mécanismes qui permettent, lors de la méiose, un « brassage » génétique.

1-7. Trois mois après retour à des cycles normaux, Mme S. présente un retard de règles. Elle décide donc de réaliser un test de grossesse acheté dans le commerce. Ce test est basé sur la détection d'HCG par une réaction antigène-anticorps, dont le principe est exposé dans le **document 4**.

1-7.1 Préciser par quelle structure embryonnaire l'HCG est sécrétée et expliquer comment cette hormone permet le maintien de la grossesse.

1-7.2 Donner la nature biochimique d'un anticorps et réaliser une représentation schématique légendée de sa structure. Préciser sur le schéma où se fixe l'antigène.

1-7.3 Le **document 4** présente les résultats de deux tests de grossesse, un positif et un négatif. A l'aide de ce document, expliquer l'apparition d'une bande bleue dans la fenêtre test en cas de grossesse.

## 2 Suivi gestationnel (5,5 points)

Lors de la visite prénatale du 6<sup>ème</sup> mois (24 semaines d'aménorrhée), une mesure de la glycémie et un hémogramme sont réalisés. Leurs résultats sont consignés sur le **document 5**.

Suite à ces examens, le diagnostic de diabète gestationnel est posé. Cette pathologie augmente le risque de mort néonatale et n'est pas non plus sans conséquence pour la future mère. En effet, un diabète gestationnel peut favoriser la survenue d'hypertension artérielle.

A l'examen clinique, le gynécologue obstétricien :

- observe une prise de poids brutale ainsi que la présence d'œdèmes chez Mme S. qui se plaint de céphalées,

- mesure, à deux reprises, une pression artérielle systolique supérieure à 140 mmHg et une pression artérielle diastolique supérieure à 90 mmHg.

Cette hypertension doit être très surveillée car elle peut entraîner des hémorragies et un infarctus cérébral. Pour le fœtus, une ischémie peut survenir et être responsable d'un retard de croissance *in utero*.

2-1. Définir les dix termes ou expressions soulignés dans le texte ci-dessus.

2-2. A partir du **document 5**, repérer puis nommer les anomalies relevées chez Mme S., en utilisant les termes médicaux adaptés. Les résultats ont été obtenus à partir d'une prise de sang effectuée à jeun.

2-3. Le diabète gestationnel est dû à l'insulinorésistance favorisée par les modifications hormonales de la grossesse.

2-3.1. L'insuline :

- Indiquer la nature biochimique de l'insuline.
- Nommer la glande et les cellules qui la sécrète.
- Indiquer le rôle de l'insuline dans la régulation de la glycémie.

La prise en charge du diabète gestationnel débute par les mesures hygiéno-diététiques suivantes :

### Mesures diététiques :

Les recommandations énergétiques sont les suivantes chez la femme de poids normal :

- 120 kJ par kg de masse corporelle par jour (kJ : kilojoules) avec un apport énergétique total supérieur ou égal à 6 400 kJ par jour.
- Le pourcentage énergétique glucidique doit représenter environ 50 % de l'apport total.

### Autres mesures :

Une activité physique régulière est recommandée en dehors de contre-indications obstétricales.



3-1.4. A l'aide du texte encadré ci-dessus, préciser si l'allèle muté est dominant ou récessif par rapport à l'allèle sain. L'enfant de Mme S. possède un allèle sain et un allèle muté. Développera-t-il les symptômes de la maladie ? Justifier la réponse.

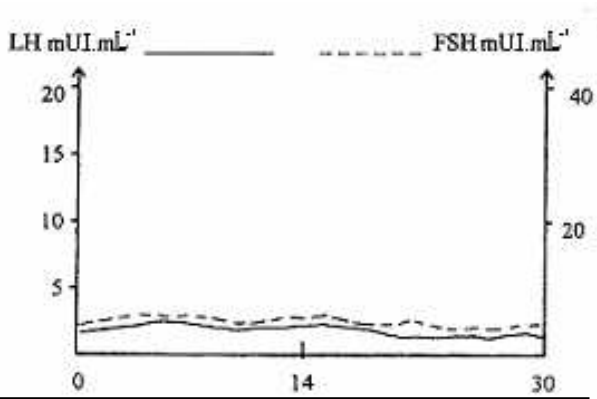
3-2. En prévision d'une grossesse future, le médecin de Mme S. souhaite élaborer un arbre généalogique afin d'évaluer les risques éventuels. Le **document 8** présente cet arbre.

Donnée : aucun cas de mucoviscidose n'est à relever dans la famille de Mme S.

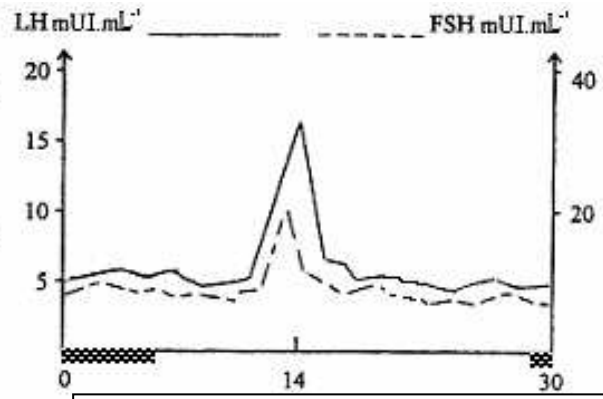
3-2.1. Donner le génotype des individus II4 et II5 (Mme S.) en utilisant les informations du texte encadré et de la question 3-1.4. Justifier.

3-2.2. A l'aide d'un échiquier de croisement, déterminer la probabilité (en pourcentage) pour que les enfants à venir du couple II4 II5 soient atteints de mucoviscidose.


**Document 1** : Dosage plasmatique des hormones de Mme S.



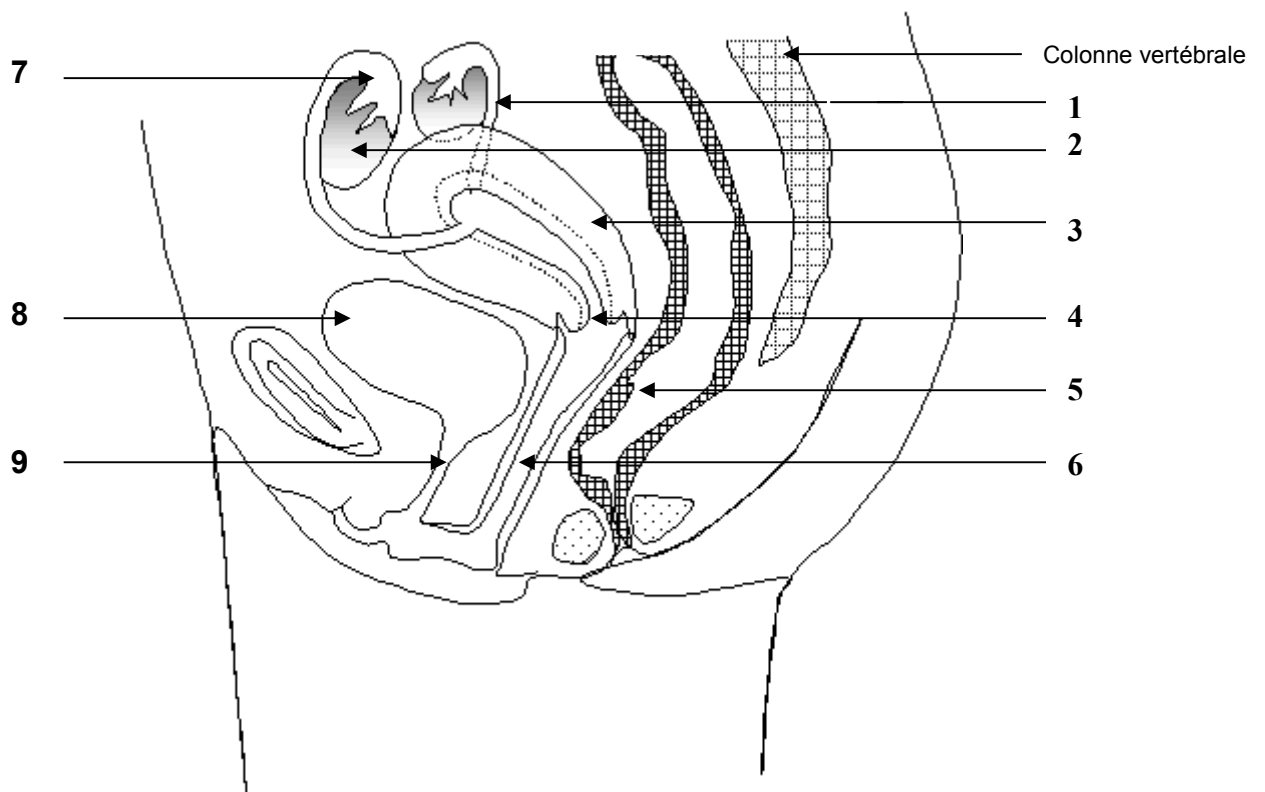
**Document 1a** : résultats obtenus chez Mme S. avant traitement



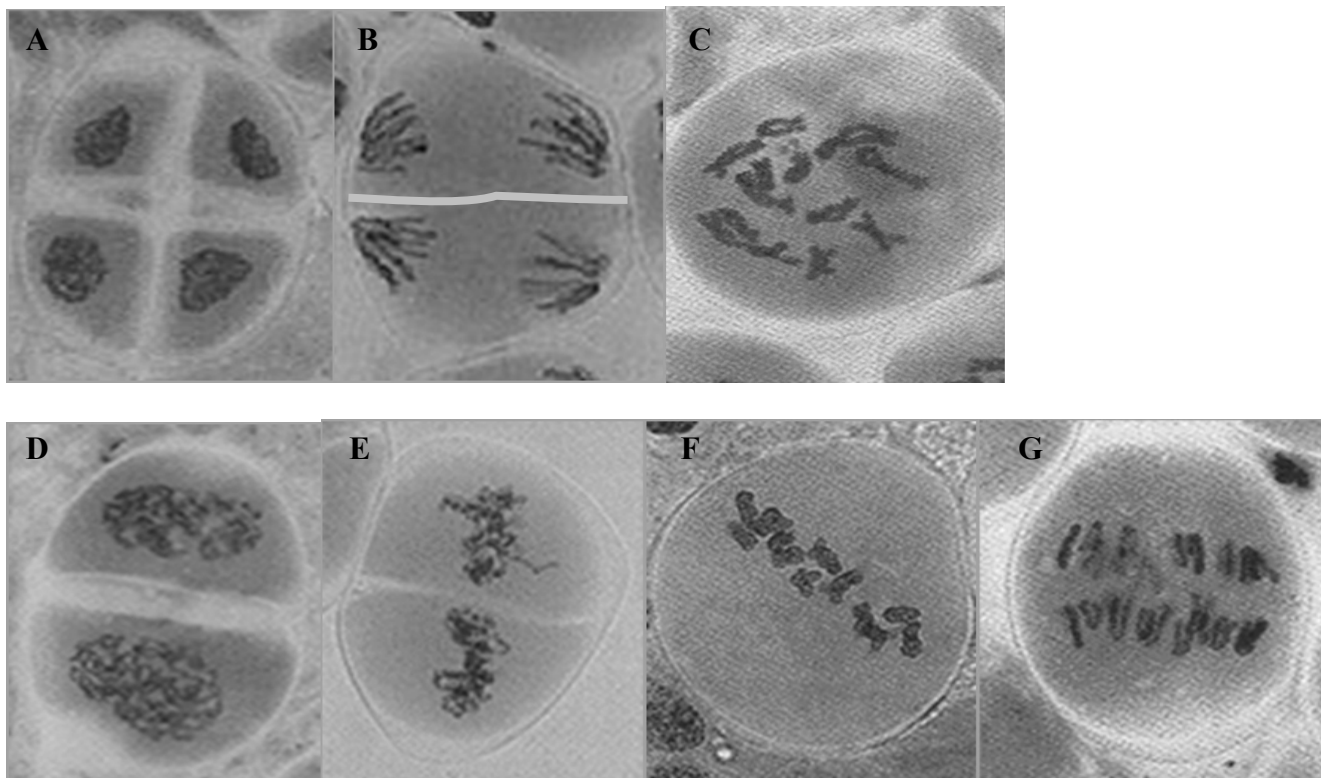
**Document 1b** : résultats obtenus chez Mme S. le mois suivant le traitement

 menstruations

**Document 2**



Document 3

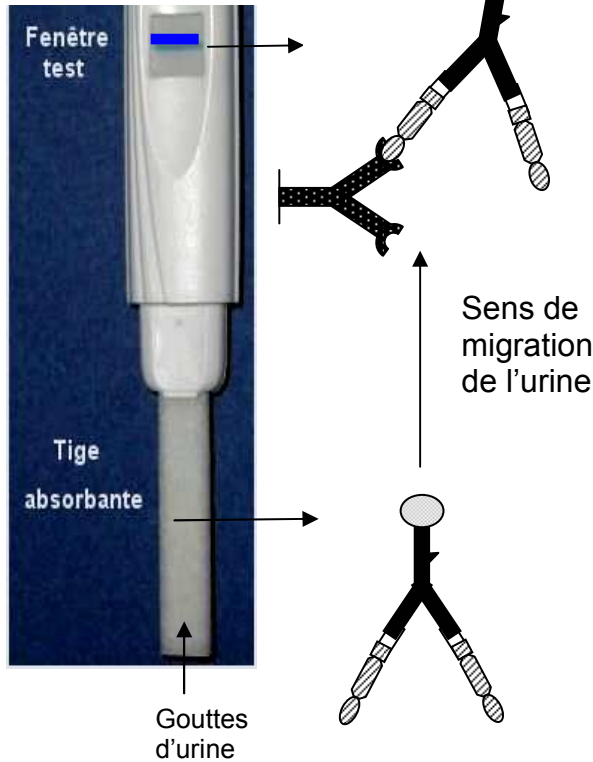


**Document 4 : Principe du test de grossesse**

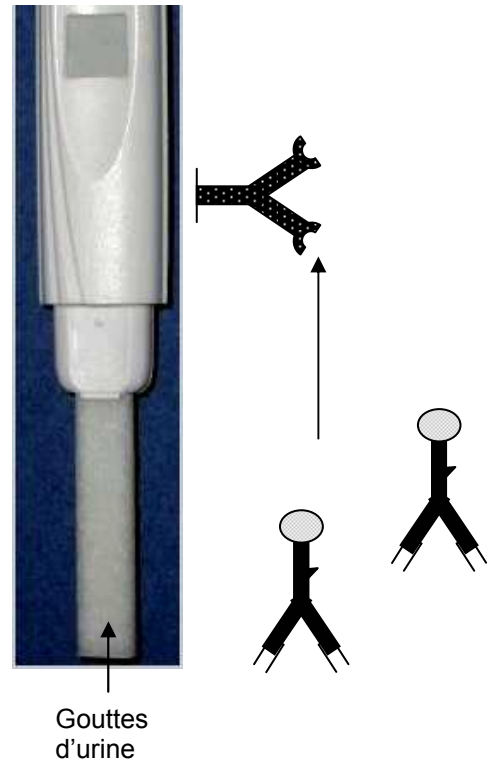
Dès les premiers jours de retard des règles, on peut détecter l'HCG (Human Chorionic Gonadotropin ou Gonadotrophine Chorionique Humaine) dans les urines grâce au test de grossesse, dont une partie du dispositif est présentée ci-dessous.

La tige absorbante contenant l'anticorps mobile anti- $\alpha$ HCG est imbibée d'urine. L'urine remonte jusqu'à la fenêtre test, qui contient l'anticorps fixe anti- $\beta$ HCG. Dans cette fenêtre s'affiche le résultat, négatif ou positif (bande bleue) en cas de grossesse.


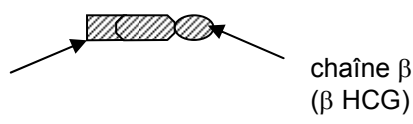
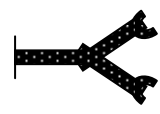
**Test positif**



**Test négatif**



**Légendes :**

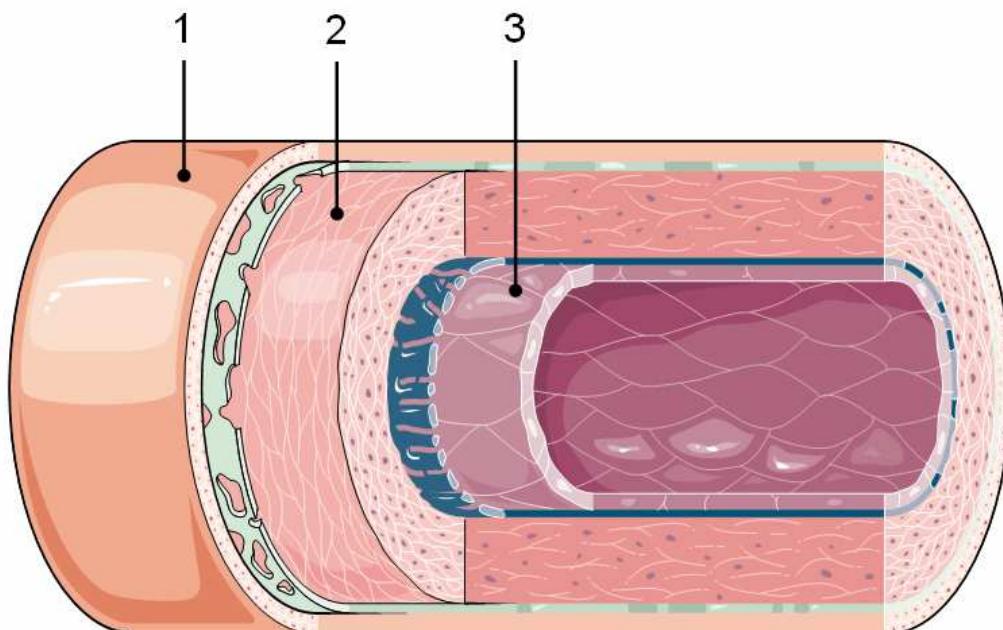
<p><b>Ac mobile</b> anti-<math>\alpha</math>HCG qui migre avec l'urine dans la tige absorbante</p>	 <p>Bille bleue liée à l'Ac</p>
<p><b>HCG</b></p>	 <p>chaîne <math>\alpha</math> (<math>\alpha</math> HCG)      chaîne <math>\beta</math> (<math>\beta</math> HCG)</p>
<p><b>Ac fixe</b> anti-<math>\beta</math>HCG présent au niveau de la fenêtre test</p>	



## Document 5

	Résultats de Mme S.	Valeurs physiologiques
<b>Glucose</b>	2 g.L <sup>-1</sup>	0,8 à 1,2 g.L <sup>-1</sup>
<b>NFS</b>		
Hématies	3,6.10 <sup>12</sup> .L <sup>-1</sup>	4,5.10 <sup>12</sup> à 5,5.10 <sup>12</sup> .L <sup>-1</sup>
Plaquettes	300.10 <sup>9</sup> .L <sup>-1</sup>	150.10 <sup>9</sup> à 450.10 <sup>9</sup> .L <sup>-1</sup>
Leucocytes	5,2.10 <sup>9</sup> .L <sup>-1</sup>	4.10 <sup>9</sup> à 10.10 <sup>9</sup> .L <sup>-1</sup>
Hémoglobine	95 g.L <sup>-1</sup>	120 à 160 g.L <sup>-1</sup>
<b>Formule leucocytaire</b>		
Polynucléaires neutrophiles	65 %	50 à 75 %
Polynucléaires éosinophiles	1 %	1 à 2 %
Polynucléaires basophiles	0 %	0 à 1 %
Lymphocytes	25 %	20 à 40 %
Monocytes	9 %	2 à 10 %

## Document 6



**Document 7 : Code génétique**

		Deuxième lettre									
		U		C		A		G			
Première lettre	U	UUU	Phe	UCU	Ser	UAU	Tyr	UGU	Cys	U C A G	Troisième lettre
		UUC	Phe	UCC	Ser	UAC	Tyr	UGC	Cys		
		UUA	Leu	UCA	Ser	UAA	Stop	UGA	Stop		
		UUG	Leu	UCG	Ser	UAG	Stop	UGG	Trp		
	C	CUU	Leu	CCU	Pro	CAU	His	CGU	Arg	U C A G	
		CUC	Leu	CCC	Pro	CAC	His	CGC	Arg		
		CUA	Leu	CCA	Pro	CAA	Gln	CGA	Arg		
		CUG	Leu	CCG	Pro	CAG	Gln	CGG	Arg		
	A	AUU	Ile	ACU	Thr	AAU	Asn	AGU	Ser	U C A G	
		AUC	Ile	ACC	Thr	AAC	Asn	AGC	Ser		
		AUA	Ile	ACA	Thr	AAA	Lys	AGA	Arg		
		AUG	Met	ACG	Thr	AAG	Lys	AGG	Arg		
	G	GUU	Val	GCU	Ala	GAU	Asp	GGU	Gly	U C A G	
		GUC	Val	GCC	Ala	GAC	Asp	GGC	Gly		
		GUA	Val	GCA	Ala	GAA	Glu	GGA	Gly		
		GUG	Val	GCG	Ala	GAG	Glu	GGG	Gly		

**Document 8 : Arbre généalogique de M. et Mme S.**

